

1. नीचे दिये गये शब्दों में से संबंधित सही शब्द रिक्त स्थान के लिये चुनिये –
Select the related word from the given alternatives.

Love: Hate:: Deep :?

- | | |
|------------|-----------|
| A. Long | B. Bright |
| C. Shallow | D. High |

2. नीचे दी गई संख्याओं में से सही संख्या रिक्त स्थान हेतु चुनें ।
Select the related number from the given alternatives.

18636 : 3106 :: 2508 : ...?

- | | |
|--------|--------|
| A. 418 | B. 406 |
| C. 394 | D. 430 |

3. नीचे दिये अक्षरों में से सही अक्षरों के जोड़े को रिक्त स्थान हेतु चुनें ।
Select the related pair of letters from the given alternatives.

AZ : BY :: CX :?

- | | |
|-------|-------|
| A. BD | B. AD |
| C. ZB | D. DW |

4. P, पिता हैं Q के किंतु Q उनके पुत्र नहीं हैं, S पत्नी हैं P की, R पुत्र हैं S के, तो Q का S से क्या रिश्ता है ?

P is father of Q, but Q is not his son, S is wife of P, R is son of S. How is Q related to S?

- | | |
|------------------|---|
| A. भाई (Brother) | B. पुत्री (Daughter) |
| C. पिता (Father) | D. नहीं बता सकते
(Can't be determined) |

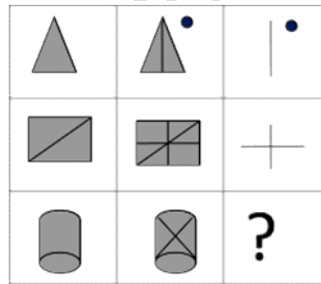
- A. केवल निष्कर्ष (I) सही है
Only conclusion (I) follows
- B. केवल निष्कर्ष (II) सही है
Only conclusion (II) follows
- C. दोनों ही सही हैं
Both conclusion follow
- D. दोनों में से कोई नहीं
Neither follows

8. यदि किसी कूट भाषा में, "BOOK" को "CQRO" लिखा जाता है, तो "ROAD" को उसी कूट भाषा में किस प्रकार लिखेंगे ?

In a certain code language, "BOOK" is written as "CQRO". How is "ROAD" written in that code language?

- A. SQDH
- B. SQCH
- C. SRDH
- D. SREH

9. Complete the following figure matrix by selecting the right figure from the given options.

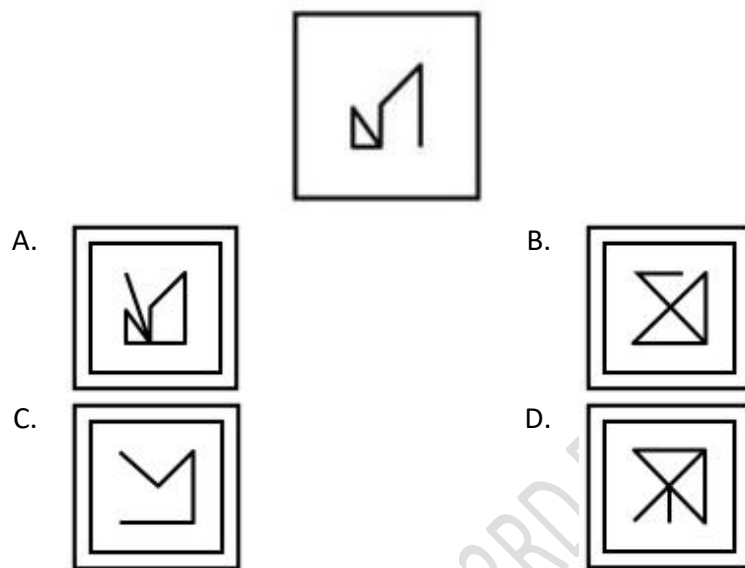


- A.
- C.

- B.
- D.

10. नीचे दिये गये उत्तर चित्रों में से ऐसे उत्तर चित्र का चयन करें जिसमें प्रश्न चित्र समाहित/छिपा हुआ हो ?


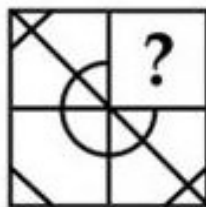
From the given answer figures, select the one in which the question figure is hidden/embedded.



11. निम्न में से कौन सा उत्तर चित्र प्रश्न चित्र को पूर्ण करेगा ?

Which answer figure will complete the pattern in question figure?

Question Figure:



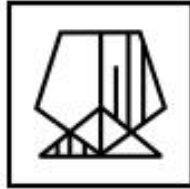
12. यदि निम्न प्रश्न चित्र के नीचे बनी AB लकीर पर एक दर्पण रखा जाये तो कौन सा उत्तर चित्र उसका सही प्रतिबिम्ब प्रदर्शित करेगा ?

If a mirror is placed on the line AB in the following question figure, then which answer figure is the right mirror image?

Question Figure:



A.



B.



C.




D.

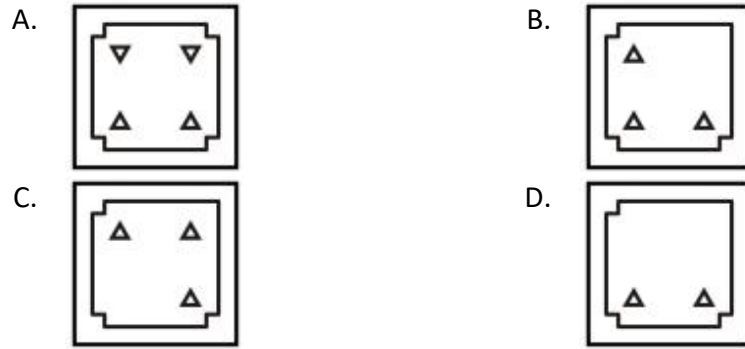


13. प्रश्न चित्र में दर्शाए अनुसार एक कागज के टुकड़े को मोड़कर कोने को काट/ छिद्र कर दिया जाये तो उसे खोलने पर उत्तर चित्रों में से कौन सा चित्र बनेगा ?

A piece of paper is folded and punched as shown below in the question figure. From the given answer figures, indicate how will it appear when opened?

Question Figure:

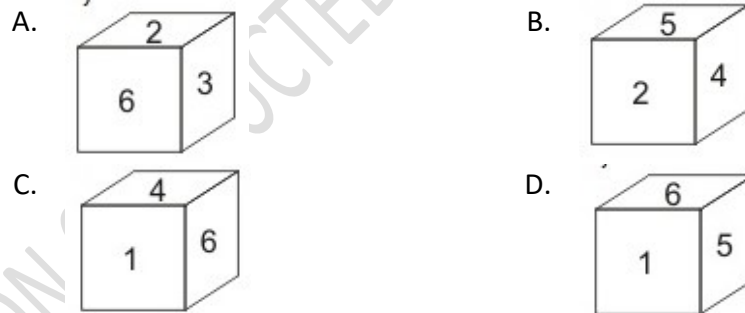
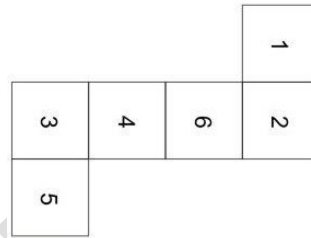




14. प्रश्न चित्र को मोड़ने पर दिये गये उत्तर चित्र में से कौन सा चित्र बनेगा ?

From the given options, which answer figure can be formed by folding the question figure?

Question Figure:



15. यदि 'x' का मतलब '+' है, '+' का मतलब 'x' है, '-' का मतलब '÷' है और '÷' का मतलब '-', तो निम्न में से कौन सा समीकरण सही होगा ?

If 'x' means '+', '+' means 'x', '-' means '÷' and '÷' means '-', then which of the following equation is correct ?

- A. $12 - 3 \times 4 = 12$
- B. $5 + 2 - 4 = 13$
- C. $49 \times 7 - 14 = 49$
- D. $44 + 4 - 2 = 88$

16. यदि $3 \# 4 \% 8 = 6$ और $9 \% 4 \# 3 = 12$ तो $12 \% 6 \# 24 = ?$

If $3 \# 4 \% 8 = 6$ and $9 \% 4 \# 3 = 12$, then $12 \% 6 \# 24 = ?$

A. 1

B. 4

C. 2

D. 3

17. निम्न अंग्रेजी के शब्दों को अंग्रेजी शब्दकोश में उनके क्रम के अनुसार व्यवस्थित करें –

Arrange the given words in the sequence in which they occur in the dictionary.

Viper	Vapour	Victory	Vacuum	Visit
1	2	3	4	5

A. 42135

B. 42315

C. 24315

D. 24135

18. निम्न संख्या श्रृंखला में अनुपस्थित संख्या को दिये गये उत्तरों से पूर्ण करें ?

Select the missing number from for the given alternative to complete the number series:

2, 9, 28, 65,, 217, 344

A. 152

B. 127

C. 104

D. 126

19. निम्न श्रृंखला में रिक्त स्थान में सही अनुपस्थित अक्षर क्या होगा ?

A series given below is with one missing term. Select the correct alternative from the given ones which will complete the series -

J, O, T, Y, D,.....?

A. J

B. H

C. I

D. K

20. निम्न में से समूह के बाहर का शब्द दर्शाएँ –

Select the odd one from the given items:

A. लीटर
Liter

B. Meter
मीटर

C. प्रकाश वर्ष
Light Year

D. सेंटीमीटर
Centimeter

21. 69वें गणतंत्र दिवस परेड के मुख्य अतिथि को चुनें ?

Select the Chief Guest/s of 69th Republic Day Parade ?

A. सुल्तान हस्सनल
बोल्कियाह
Sultan Hassanali Bolkiah

B. प्रधान मंत्री हुन सेन
Prime Minister Hun Sen

C. प्रेसिडेंट जोको विडोडो
President Joko Widodo

D. सभी विकल्प सही हैं
All the options are correct

22. भारत में ग्रामीण क्षेत्रों में प्रति व्यक्ति प्रति दिन स्वीकृत औसत कि.कैलोरी की आवश्यकता क्या है ?

What is the accepted average Calorie required for the rural area in India per day per person?

A. 2400

B. 1300

C. 2200

D. 1100

23. देश के राष्ट्रपति को उनके कार्यकाल समापन के पूर्व ही दोषारोपण द्वारा पदच्युत करने हेतु किसकी सिफारिश की आवश्यकता होती है ?

Whose recommendation is mandatory to impeach the President of India from his office before the completion of his/her term?

- | | |
|--|--|
| A. राज्य सभा अध्यक्ष
Rajya Sabha Speaker | B. प्रधान मंत्री
Prime Minister |
| C. भारत के मुख्य
न्यायाधीश
The Chief Justice of
India | D. संसद के दोनों सदन
Both houses of the
Parliament |

24. चित्तौड़गढ़ में विजय स्तम्भ का निर्माण किसने किया ?

Who has built the Vijay Stambha (Victory Tower) in Chittorgarh?

- | | |
|------------------------------------|--------------------------------------|
| A. महाराणा सांगा
Maharana Sanga | B. महाराणा प्रताप
Maharana Pratap |
| C. राणा कुम्भा
Rana Kumbha | D. दुर्जन सिंह
Durjan Singh |

25. "स्वराज हमारा जन्मसिद्ध अधिकार है और मैं इसे ले कर रहूंगा" का नारा किसने दिया ?
Who raised the slogan "Swaraj is my birthright and I shall have it"?

- | | |
|---|--|
| A. महात्मा गांधी
Mahatma Gandhi | B. सुभाष चंद्र बोस
Subhash Chandra Bose |
| C. बाल गंगाधर तिलक
Bal Gangadhar Tilak | D. लाला लाजपत राय
Lala Lajpat Rai |

26. किस भारतीय राज्य में अधिकतम वन क्षेत्र है ?

Which Indian state has largest forest cover?

- | | |
|------------------------------|----------------------------------|
| A. महाराष्ट्र
Maharashtra | B. राजस्थान
Rajasthan |
| C. तमिलनाडु
Tamil Nadu | D. मध्य प्रदेश
Madhya Pradesh |

27. गुजरात राज्य के संदर्भ में निम्न में से क्या सही होगा ?

Following is true about Gujarat state:

- | | |
|---|---|
| A. सबसे अधिक वन क्षेत्र
Largest forest cover | B. सर्वधिक जनसंख्या घनत्व
Highest population density |
| C. सबसे लंबी समुद्री रेखा
Longest coastline | D. एशियाटिक सिँहों का ना होना
No Asiatic lion |

28. पौधों में फ्लोएम द्वारा पोषक पदार्थों का सँवहन होता है ?

Phloem in plants transport food in -

- | | |
|--|---|
| A. ऊपर तथा नीचे दोनों दिशाओं में
Both up and down direction | B. पत्ती से पूरे पौधे में
From leaves to whole plant |
| C. जड़ों से पूरे पौधे में
Roots to whole plant | D. उपरोक्त में से कोई नहीं
None of the above |

29. मनुष्य के शरीर के बाहर 5-10 मिनट में का रक्त का थक्का बन जाता है, निम्न में से कौन सा कारक उसमें मुख्य कार्य करता है ?

Blood coagulates outside human body in five to ten minutes. Which one of the following factors cause the coagulation?

- | | |
|----------------------|-------------------------|
| A. फाइब्रिन (Fibrin) | B. अल्ब्यूमीन (Albumin) |
| C. माईयोसीन (Myosin) | D. मज्जा (Bone marrow) |

30. LAN का विस्तृत रूप क्या है ?

What is the full form of LAN

- | | |
|---|--|
| A. लाईन एरिया नेटवर्क
Line Area Network | B. लीनीयर एरिया नेटवर्क
Linear Area Network |
| C. लोकल एरिया नेटवर्क
Local Area Network | D. लाईट एरिया नेटवर्क
Light Area Network |

31. चींटियों द्वारा काटने पर कौन सा अम्ल छोड़ा जाता है ?

Which acid is released when Ants bite?

A. फॉर्मिक अम्ल

Formic Acid

B. नाइट्रिक अम्ल

Nitric Acid

C. हाईड्रोक्लोरिक अम्ल

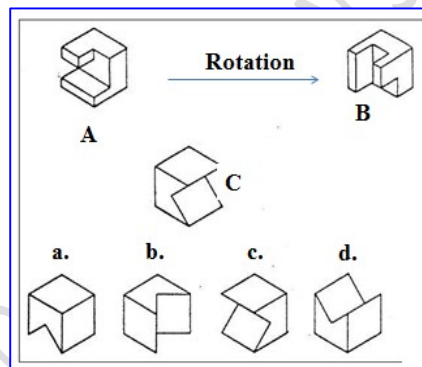
Hydrochloric Acid

D. सल्फ्यूरिक अम्ल

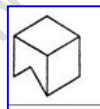
Sulphuric Acid

32. निम्न चित्र में C की घूमी हुई आकृति पहचानें, यदि B है A की घूमी हुई आकृति है ।

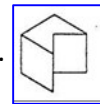
In the following figure, find the rotated appearance of C if the B is the rotated version of A.



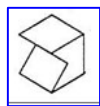
A.



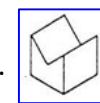
B.



C.

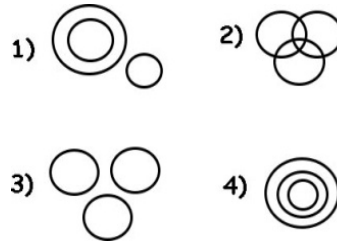


D.



33. छिपकली, सरिसृप एवं कबूतर के मध्य संबंधों को ठीक प्रकार से प्रदर्शित करने वाला चित्र होगा ?

The diagram that best illustrates the relationship among the *wall lizard*, *reptile* and *pigeon*



A. 1


B. 2

C. 3

D. 4

34. दिये चित्रों के आधार पर पाँसे के 3 बिंदु वाली तरफ के उलटी तरफ कितने बिंदु होना चाहिये ?

Based on the figures given how many dots should be there on the dice face opposite the one with three dots?



A. 2

B. 5

C. 4

D. 6

35. अग्निशमन में कौन सी गैस ज्यादातर उपयोग होती है ?

Which gas is most commonly used in fire extinguishers?

A. आक्सीजन

B. हाईड्रोजन

Oxygen

Hydrogen

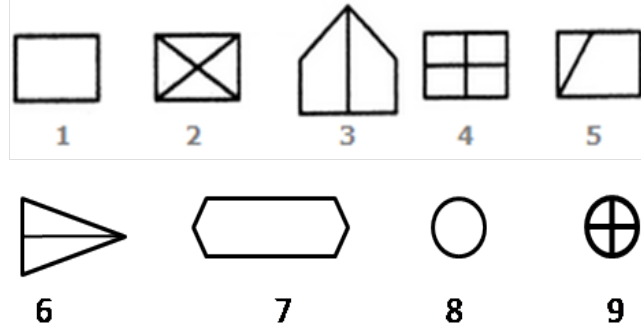
C. मीथेन

D. कार्बन डाई ऑक्साईड

Methane

Carbon Di-oxide

36. एक चित्र को केवल एक ही बार उपयोग करते हुए, दिये गये चित्रों को तीन वर्गों में बाँटें -
Group the given figures into three classes using each figure only once -



- A. 1,2,3; 4,5,6; 7,8,9
B. 1,3,5; 2,4,6; 8,7,9
C. 1,7,8; 2,4,9; 3,5,6
D. 2,5,4; 6,3,1; 9,8,7
37. निम्न में से भारत का कौन सा पड़ोसी देश दुनिया में अफीम का अधिकतम उत्पादक है ?
Which among the following neighboring country of India is the largest producer of Opium in the World ?

A. श्रीलंका
Sri Lanka
C. नेपाल
Nepal

B. मालदीव
Maldives
D. अफगानिस्तान
Afghanistan

38. दिये गये विकल्पों में से रिक्त स्थान हेतु उपयुक्त संख्या चुनें –
Select the suitable number from the given alternatives –

$$5 : 12 :: 6 : ?$$

A. 15
C. 17

B. 14
D. 20

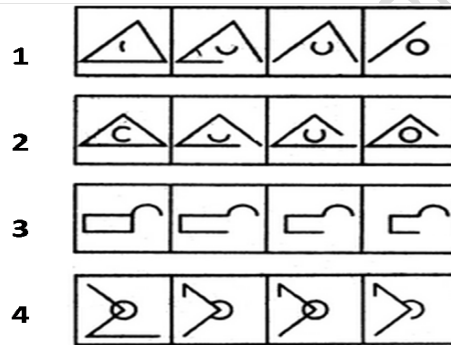
39. एक परिवार में P और Q भाई - भाई हैं, P पिता हैं S के, R इकलौता पुत्र है Q का जिसने U के साथ शादी की है, तो R का S से क्या संबंध है ?
In a family, P and Q are brothers. P is the father of S. R is the only son of Q and is married to U. How is R related to S?

- | | |
|---------|---------------|
| A. माता | B. साली |
| Mother | Sister-in-law |
| C. भाई | D. पिता |
| Brother | Father |

40. दिये नियम का अनुपालन करने वाले चित्रों के सेट का चयन करें –
Choose the set of figures which follows the given rule -

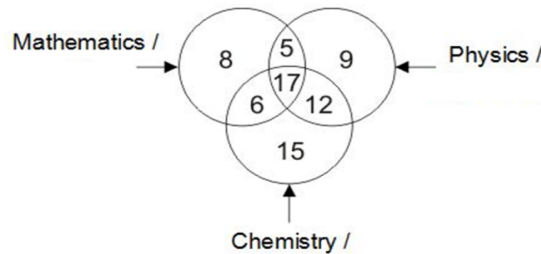
नियम: बंद चित्र खुलते जाते हैं तथा खुले चित्र बंद होते जाते हैं -

Rule: Closed figures become more and more open and open figures become more and more closed.



- | | |
|------|------|
| A. 4 | B. 1 |
| C. 2 | D. 3 |

41. निम्न चित्र के अनुसार कितने लोग केवल दो विषयों में पढ़ते हैं ?
In the given figure how many people study only two subjects?



- | | |
|-------|-------|
| A. 17 | B. 5 |
| C. 12 | D. 23 |

42. 300 से 650 के मध्य ऐसे कितनी संख्याएँ हैं जो 5 एवं 7 से विभाजित हो जाती हों ?
How many numbers are there from 300 to 650 which are completely divisible by both 5 and 7 ?

A. 8 B. 9
C. 7 D. 10

43. यदि एक वृत्त का व्यास 14 से.मी. तो उसकी परिधि क्या होगी ?

If the diameter of a CIRCLE is 14 cm, then what is its perimeter?

A. 42.96cm B. 44.95cm
C. 43.96cm D. 7cm


44. यदि रु.3200 को A, B एवं C के मध्य 3:5:8 के अनुपात में विभाजित किया हो तो B एवं C के हिस्सों का अंतर क्या होगा ?

Rs. 3200 is divided among A, B and C in the ratio of 3:5:8 respectively. What is the difference (in Rs) between the share of B and C?

A. 400 B. 600
C. 900 D. 800

45. निम्न चित्र में पाँच अलग अलग ब्रांड के कुछ जूते दर्शाए हैं । कुल १२०० जूते हों तो दर्शाए चित्र में रीबोक ब्रांड के कितने जूते हैं ?

The pie chart given below shows the number of shoes of 5 different brands in a multi brand store. There are total 1200 shoes. How many shoes are there of Reebok brand?



- A. 276 B. 230
C. 286 D. 216

46. नीचे दिये विकल्पों में से सही संबंधित विकल्प रिक्त स्थान में चुनिये ।

गोईटर : आयोडीन :: अनीमिया : ?

Select the related (analogy) word from the given alternative -

Goiter: Iodine:: Anemia : ?

- A. विटामिन – D Vitamin D B. लोहा Iron
C. विटामिन – E Vitamin E D. कैल्शियम Calcium

47. रिक्त स्थान हेतु सही विकल्प चुनें :

Select the missing number from the given series:

19, 38, ...?, 152, 304

- A. 76 B. 114
C. 138 D. 113

48. निम्न संख्या तालिका में कुछ नियमों का पालन करते हुए, प्रत्येक खानों में संख्याओं का निर्धारण किया गया है । रिक्त स्थान में सही संख्या को चुनें –

In the following number table certain rules are followed in rows and columns. Select the number may come in place of question mark.

1	8	13	12
14	11	2	7
4	5	16	?
15	10	3	6

- A. 8 B. 10
C. 9 D. 6

49. निम्न पहेली को सुलझाते हुए, “?” निशान लगे स्थान का उत्तर खोजें ?

A. 2

B. 4

C. 6

D. 12

A. ATQX

B. EFIJ

C. STUV

D. MLNK

There are 20 chocolates in a bag, 6 of these are Dairy Milk, 9 are Milky bar and 5 Perk.

What is the minimum number of chocolates that must be picked to assure that atleast one chocolate of each kind has been picked.

A. 16

B. 8

C. 13

D. 7

52. निम्न उत्तर चित्रों में से ऐसा चित्र दर्शाए जिसमें प्रश्न चित्र समाहित/ छिपा हुआ है –
From the given answer figures, select the one in which the question figure is hidden/embedded.

Question Figure



- A. B. C. D.

53. भारतीय संविधान में कुल कितने मौलिक कर्तव्य हैं ?
How many Fundamental Duties are mentioned in Indian constitution?

- A. 11 B. 7
C. 9 D. 6

54. "वेदों की और लौटो" का नारा किसने दिया ?
Who gave the slogan 'Back to the Vedas (Vedon Ki aur Lauto)' ?

- A. गुरु नानकदेव जी
Guru Nanak Dev Ji B. दयानंद सरस्वती
Dayanand Saraswati
C. स्वामी विवेकानंद
Swami Vivekanand D. राजा राम मोहन राय
Raja Ram Mohan Roy

55. टोडरमल किस मुगल सम्राट का एक प्रसिद्ध राजस्व मंत्री था ?

Todarmal was the famous revenue minister of which Mughal Emperor?

- | | |
|--------------------------|--|
| A. शाहजहाँ
Shah Jahan | B. बहदुर शाह जफर
Bahadur Shah Jafar |
| C. अकबर
Akabar | D. औरंगजेब
Aurangzeb |

56. निम्न में से किस स्थान पर गुरुत्वाकर्षण सर्वाधिक होता है ?

Gravitational force is maximum at which of the following place?

- | | |
|--|--|
| A. भूमध्य रेखा पर
At equator | B. कर्क रेखा पर
At tropic of cancer |
| C. मकर रेखा पर
At tropic of Capricorn | D. ध्रुवों पर
At poles |

57. सिल्क वर्म का वैज्ञानिक नाम क्या है ?

What is the scientific name of silk worm?

- | | |
|--|---|
| A. ड्रोसोफिला
(<i>Drosophila</i>) | B. मस्का डोमेस्टिका
(<i>Musca domestica</i>) |
| C. बोम्बिक्स मोरी
(<i>Bombyx morii</i>) | D. मोरस अल्बा
(<i>Morus alba</i>) |

58. वह रोग जो दुनिया से खत्म कर दिया गया है ?

The disease that has been eradicated from the world is ?

- | | |
|----------------------------------|------------------------------|
| A. लेप्रोसी
Leprosy | B. स्माल पौक्स
Small Pox |
| C. पौलीमाईलिटिस
Poliomyelitis | D. चिकन पौक्स
Chicken Pox |

59. जब लोक सभा भंग कर दी जाती है तो लोकसभा अध्यक्ष कार्यालय में तब तक बने रहते हैं जब तक नये –

When the Lok Sabha is dissolved, the Speaker continues in office till a new –

- | | |
|---|---|
| <p>A. अध्यक्ष राष्ट्रपति द्वारा नहीं नियुक्त किये जाते
Speaker is appointed by the President</p> | <p>B. लोकसभा नहीं बन जाती
Lok Sabha is formed</p> |
| <p>C. नई लोकसभा द्वारा नये अध्यक्ष नहीं चुन लिये जाते
Speaker is elected when the new House meets</p> | <p>D. सरकार नहीं बन जाती
Government is formed</p> |

60. Fill in the blank:

The practice was slowly

- | | |
|---------------------|--------------------|
| <p>A. Given up</p> | <p>B. Given in</p> |
| <p>C. Gone with</p> | <p>D. Given to</p> |

61. डिजीटल फोटो एवं स्कैन की हुए चित्र जो कि एक्स्टेंशन जैसे .bmp, .png, .jpg, .tif or .gif इत्यादि में बनते हैं, उन्हें किस ग्राफिक्स में स्टोर किया जाता है ?

In which graphics, digital photos and scanned images are typically stored with Extensions such as: .bmp, .png, .jpg, .tif or .gif?

- | | |
|----------------------------|-----------------------------|
| <p>A. पिक्सेल (Pixels)</p> | <p>B. बिट मैप (Bitmap)</p> |
| <p>C. प्लेन (Plane)</p> | <p>D. A एवं B (A and B)</p> |

62. 15th February 2017 को PSLV-C37 यान के द्वारा एक साथ कितने उपग्रह छोड़े गये थे ?
How many satellites were launched successfully by PSLV-C37 in a single flight on 15th February 2017?
- A. 72
B. 80
C. 98
D. 104
63. 'डांडिया' निम्न में से किस राज्य की एक नृत्य कला है ?
'Dandia' is a form of dance associated with which of the following state?
- A. आसाम (Assam)
B. राजस्थान (Rajasthan)
C. गुजरात (Gujarat)
D. छत्तीसगढ़ (Chhattisgarh)
64. मई – जून 2018 में कौन सा राज्य निपाह वाईरस के फैलने (प्रकोप) के लिये चर्चा में था ?
Which of the following states was in news for the outbreak of **Nipah virus diseases** in May-June 2018?
- A. बिहार (Bihar)
B. केरल (Kerala)
C. गुजरात (Gujarat)
D. हरियाणा (Haryana)
65. 10वाँ 'BRICS' सम्मेलन 2018 निम्न में से कहाँ हुआ था ?
The 10th 'BRICS' summit 2018 was held in which of the following countries?
- A. ब्राजील
Brazil
B. Russia
रशिया
C. China
चीन
D. South Africa
दक्षिण अफ्रीका
66. निम्न में से किस नें अभिनव भारत सोसाईटी का निर्माण किया था ?
Who among the following leaders founded the revolutionary organization – 'Abhinav Bharat Society'?
- A. भगत सिंह
Bhagat Singh
B. विनायक दामोदर सावरकर
Vinayak Damodar Savarkar

- | | |
|---|---------------------------------|
| C. बारिंद्र कुमार घोष
Barindra Kumara
Ghosh | D. पुलिन बिहारी
Pulin Bihari |
|---|---------------------------------|

67. भारत का प्रथम राष्ट्रीय समुद्री जैवविविधता केंद्र कहाँ स्थित है ?

India's first National Center for Marine Biodiversity (NCMB) is located in which city?

- | | |
|------------------------|---------------------------|
| A. भावनगर
Bhavnagar | B. जामनगर
Jamnagar |
| C. मुम्बई
Mumbai | D. पुडुचेरी
Puducherry |

68. निम्न में से किस देश में पम्पास के घास के मैदान स्थित हैं ।

In which of the following countries is the Pampas grasslands situated ?

- | | |
|----------------------------|------------------------|
| A. अर्जेंटीना
Argentina | B. ब्राज़ील
Brazil |
| C. चिली
Chile | D. इक्वेडोर
Ecuador |

69. भारत में बाघ परियोजना की शुरुआत कब हुई ?

When was 'Project Tiger' launched in India?

- | | |
|---------|---------|
| A. 1968 | B. 1975 |
| C. 1972 | D. 1993 |

70. निम्न में से कौन सी संस्था एक अतिरिक्त संवैधानिक एजेंसी है ?

Which one of the following is an extra-constitutional agency in India?

- | | |
|--------------------------------------|-------------------------------------|
| A. संघ लोक सेवा आयोग
UPSC | B. वित्त आयोग
Finance Commission |
| C. चुनाव आयोग
Election commission | D. नीति आयोग
NITI Aayog |

74. विश्व बैंक द्वारा प्रथम व्यक्ति कैपिटल इंडेक्स में कौन सा देश प्रथम रहा ?

Which country secured top rank on the World Bank's first human Capital Index ?

- | | |
|--------------------------|----------------------|
| A. सिंगापुर
Singapore | B. Germany
जर्मनी |
| C. Ireland
आयरलैंड | D. France
फ्रांस |

75. इंडिया स्टेट आफ फॉरेस्ट रिपोर्ट, 2017 में देश के भू-भाग का कितना प्रतिशत जंगल है ।

According to the India State of Forest Report, 2017 what percentage of total geographical area of country is under forest?

- | | |
|----------|----------|
| A. 20.34 | B. 22.34 |
| C. 21.54 | D. 23.54 |

76. वर्तमान में भारत के मुख्या न्यायाधीश कौन हैं ?

Who is the Chief Election Commissioner of India at present?

- | | |
|--------------------------------|---------------------------------------|
| A. बी.बी. टंडन
B. B. Tandon | B. सुनील अरोरा
Sunil Arora |
| C. नवीन चावला
Navin Chawla | D. ओम प्रकाश रावत
Om Prakash Rawat |

77. The teacher has no control..... the students.

- | | |
|---------|---------|
| A. on | B. With |
| C. over | D. at |

78. I have been waiting for her.....three weeks.

- | | |
|----------|---------|
| A. For | B. From |
| C. Since | D. On |

79. Out the following words which is closest in meaning of 'Open' -

- | | |
|-------------|-----------|
| A. Confused | B. Sordid |
| C. Frank | D. Loose |

80. Which one from the following word is OPPOSITE in meaning of 'Extrovert'?

- | | |
|--------------|------------|
| A. Mixer | B. Upward |
| C. Introvert | D. Boaster |

81. One who is unable to pay one's debt is –

- | | |
|-------------|--------------|
| A. Loanee | B. Obligated |
| C. Borrower | D. Bankrupt |

82. Rearrange the following parts to get a complete sentence:

When he...

- (P) did not know
(Q) he was nervous and
(R) heard the hue and cry at midnight
(S) what to do

- | | |
|---------|---------|
| A. PQRS | B. QSRP |
| C. RQPS | D. SRQP |

83. The story of a man written by another -

- | | |
|------------------|-----------------|
| A. Story | B. Life-history |
| C. Autobiography | D. Biography |

84. Choose the correct article.

He promised to return with in half.....hour.

- | | |
|-------|--------|
| A. of | B. A |
| C. an | D. the |

85. Select the passive form of given sentence from the given alternatives.

Shut the door.

- | | |
|----------------------------|-------------------------|
| A. Let be the shut door. | B. Let the door be shut |
| C. The door be shut by you | D. Please shut the door |

86. Choose the negative form of sentence - '***He went to Delhi***' from the given alternatives.

- | | |
|-----------------------------|---------------------------|
| A. He not went to Delhi | B. He went not to Delhi |
| C. He did not went to Delhi | D. He did not go to Delhi |

87. Choose the suitable phrase for the underlined part of following sentence.

He chose the path of religion **of his own accord.**

- | | |
|--------------|-------------------|
| A. Forcibly | B. Helplessly |
| C. Willingly | D. Half-heartedly |

88. Select the **adjective** used in the following sentence from the given alternatives.

People got unconditional support from Government.

- | | |
|------------------|------------|
| A. Got | B. Support |
| C. Unconditional | D. From |

89. महाकाव्य 'कामायनी' के रचनाकार हैं –

- | | |
|-----------------------|------------------|
| A. सुमित्रा नन्दन पंत | B. जयशंकर प्रसाद |
| C. हजारी प्रसाद | D. रामधारी सिंह |

90. 'सुन सुग्रीव मारिहों, बाली एकहि बाण' में कौन से रस की प्रधानता है ?

- | | |
|----------------|--------------|
| A. वीर रस | B. करुण रस |
| C. वात्सल्य रस | D. शृंगार रस |

91. एक या एक से अधिक अक्षरों के मेल से जो सार्थक एकाई बनती है, वह है –

- | | |
|---------|----------|
| A. वर्ण | B. अक्षर |
| C. शब्द | D. वाक्य |

92. "चवन्नी" शब्द में कौन सा समास है?

- | | |
|--------------|-------------|
| A. बहुब्रीहि | B. कर्मधारय |
| C. अव्ययीभाव | D. द्विगु |

93. कार्य की विशेषता बताने वाले शब्द को क्या कहते हैं?

- | | |
|------------------|------------------|
| A. विशेषण | B. संज्ञा विशेषण |
| C. क्रिया विशेषण | D. विशेष्य |

94. नीचे दिये गए वाक्य में भाव वाचक संज्ञा कौन सी है?

“परदेस में अपनापन नहीं मिलता”

A. परदेस

B. में

C. मिलता

D. अपनापन

95. “अंधों में काना राजा” का अभिप्राय है-

A. अज्ञानियों के बीच में
अल्पज्ञों की मान्यता
होना

B. अल्पज्ञ की पूजा

C. एक आँखा वाला राजा
होना

D. काने को राजा बनाना

96. “मैं झूठ से घृणा करता हूँ” में कौन सा कारक है?

A. कर्ता कारक

B. कर्म कारक

C. अपादान

D. संबंध कारक

97. “जन रंजन मंजन दनुज मनुज रूप सुर भूप, विश्व बदर एव धृत उदार जोवत सोवत सूप”
में कौन सा अलंकार है?

A. उपमा

B. अतिशयोक्ति

C. अनुप्रास

D. यमक

98. “टेढ़ी खीर होना” मुहावरे का सामान्य अर्थ है-

- | | |
|--------------------------------|-------------------------------|
| A. खीर का टेढ़े बर्तन में होना | B. खीर खाना एक टेढ़ा काम होना |
| C. कार्य का अति सरल होना | D. कार्य का अति कठिन होना |

99. आम्र और आम शब्दों में-

- | | |
|------------------------------------|------------------------------------|
| A. आम्र तद्भव है | B. आम्र तत्सम है |
| C. आम्र तत्सम है एवं आम्र तद्भव है | D. आम्र देशज है एवं आम्र विदेशज है |

100. निम्न लिखित वाक्य का शुद्ध रूप दिये विकल्पों में से चुनिये।
हरी एक फूल की माला बना रहा है।

- | | |
|-------------------------------------|-------------------------------------|
| A. हरी एक फूलों का माला बना रहा है। | B. हरी फूलों की एक माला बना रहा है। |
| C. हरी एक फूल की मालाएँ बना रहा है। | D. हरी फूल की एक माला बना रहा है। |